



# Allemaal vragen



Hoe heten de lijntjes door noten die niet op de notenbalk passen

.....



Hoe heet deze sleutel

.....

Spelen de instrumenten die deze sleutel gebruiken hoog of laag

.....



Welke sleutel is hier gebruikt


.....

Spelen de instrumenten die deze sleutel gebruiken hoog of laag .....



Dit is de

.....



Hoe geef je aan dat de tonen een oktaaf hoger gespeeld moeten worden.....

En een oktaaf lager.....

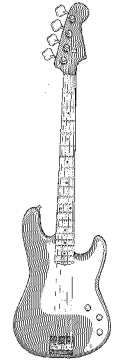
# Welke sleutel??

Zet een cirkel om de instrumenten die met een F-sleutel spelen,  
Welke instrumenten spelen met beide?  
(vul in op de stippellijnen)

.....en.....




trombone



Basgitaar



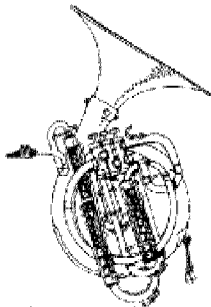
Trompet



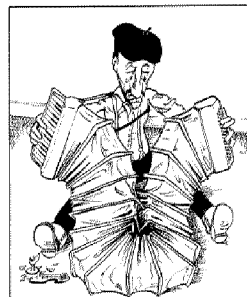
Gitaar



Altsaxofoon



bastuba



Accordeon



Cello



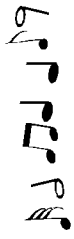
Blokfluit



Piano

# Welke sleutel??

Zet een cirkel om de instrumenten die met een G-sleutel spelen



bariton



Fagot




Trompet



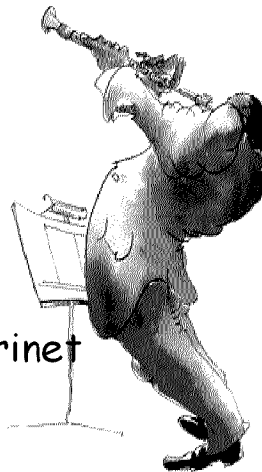
Baritonsaxofoon



Fluit



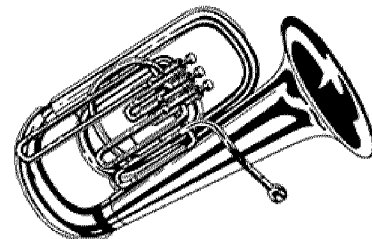
Gitaar



Klarinet




Viool



euphonium


## Toonladders



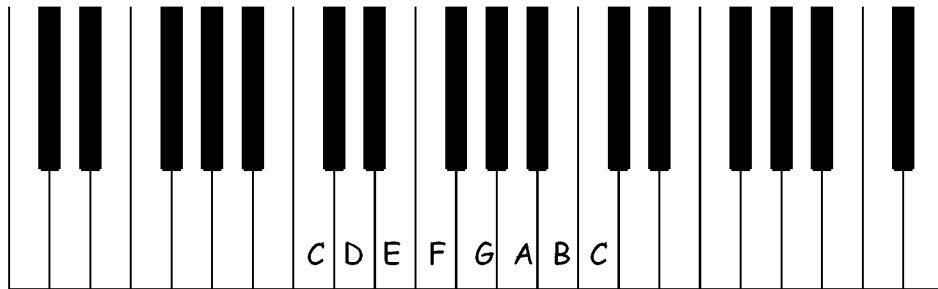
Een toonladder is een soort trap, waarvan de treden niet allemaal even ver uit elkaar zitten.

Teken hierboven een trap (toonladder) met de goede afstanden.


Let op !! heel, heel, half  
heel, heel, heel, half






# Toonladders




Hier zie je een toonladder op pianotoetsen  
Kruis aan waar de halve toonsafstanden zitten



Schrijf nu zelf een toonladder in de notenbalk  
Kruis aan waar de halve afstanden zitten



# Puzzel



de



Stuur

Zing

Geef

Het

Een

De

Rijken

Armen



Knappen

Omcirkel het woord dat bij het plaatje hoort  
Wat is de oplossing



Welke begintoon heeft de toonladder met  
1 kruis, 2 kruisen, 3 kruisen  
Noteer het antwoord op de stippellijn

# Puzzel



Friese

Spaanse

Duitse

Jongens

Agenten

Boeren

Zoenen

Eten

Slapen

Omcirkel het woord dat bij het plaatje hoort  
Wat is de oplossing

.....




.....

.....

.....

Welke begintoon heeft de toonladder met  
1 mol, 2 mollen, 3 mollen  
Noteer het antwoord op de stippellijn

Kun je de begrippen vinden ??



Geef aan met letter

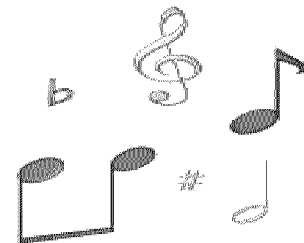

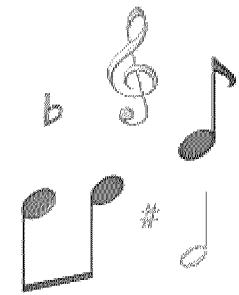
A. het maatteken (de maatsoort)

B. een maatstreep

C. de dunne dubbele maatstreep

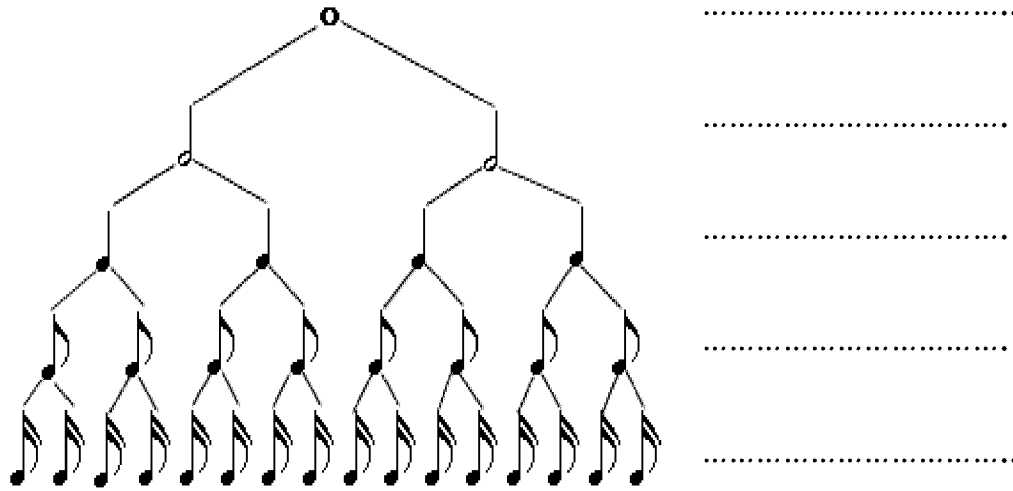
D. de dubbele maatstreep

E. een hele maat





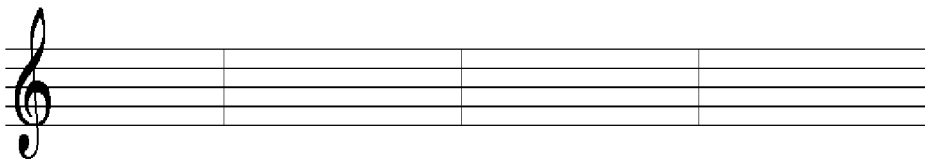
# Van groot naar nog kleiner



Hoe heten de noten die je hierboven ziet  
Schrijf de namen op de stippellijnen ernaast



Maak een liedje met de noten die hierboven staan  
Pas op...let op de maatsoort !!!!





Hier komen de rusten die bij de noten horen, vul de letters in achter de cijfers, streep de letters door die je gebruikt hebt

	A		
	B		
	C		
1....	D		5.... 
2....	E		6.... 
3....	F		7.... 
4....	G		8.... 
	H		

# Allemaal vragen



4  
4


Dit betekent

.....  
.....



Deze noten mag je

.....



Hier speel je de noten

.....



En hier speel je

.....



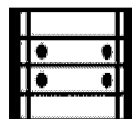

Aan deze letters onder de noten kun je zien

.....



Als dit teken onder de noten staat moet je

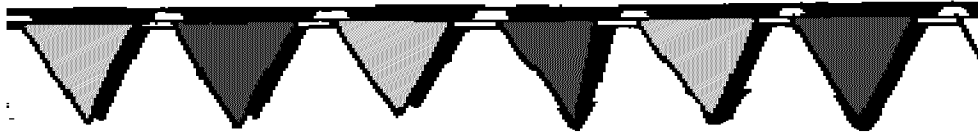
.....



Bij dit teken moet je


.....

# Maat en ritme



Zet een cirkel om de noot die 1 tel is




Zet een cirkel om de noot die 2 tellen is


	
	
	
	
	



# Een raar liedje

Zoek de fouten





Bij dit teken moet je

.....

Het teken heet

.....





Omcirkel de noten die langer gemaakt zijn

Weet je nog een manier om een toon langer te maken?

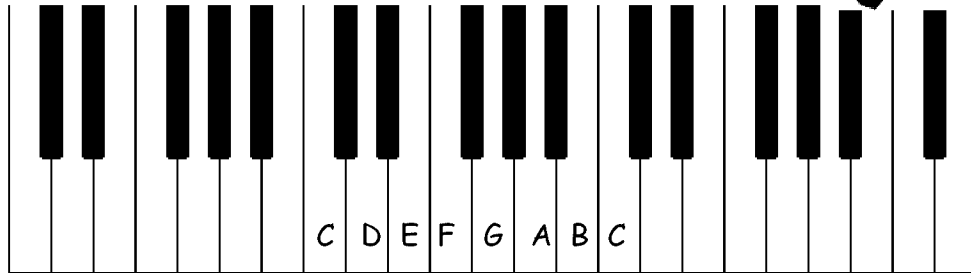
.....

Vul de letter van de maat die erbij hoort in op de stippeltjes achter het cijfer


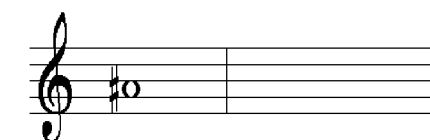
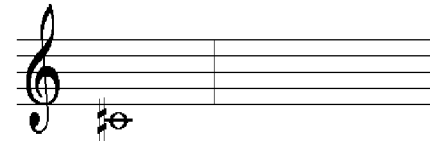

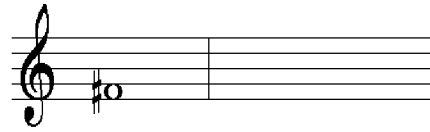
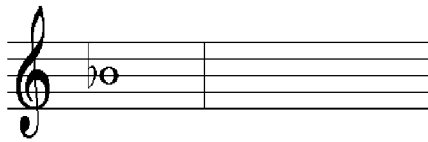





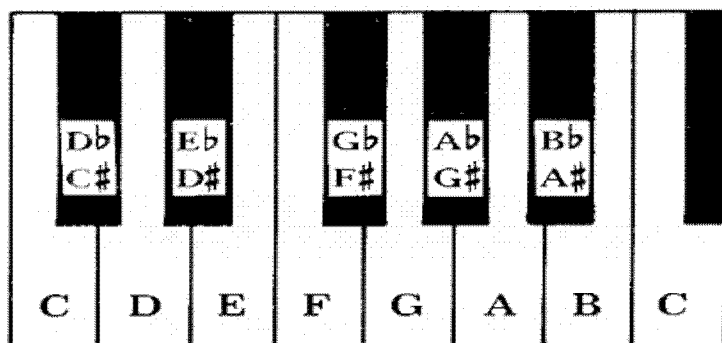
# Enharmonische tonen





Schrijf met behulp van de pianotoetsen de enharmonisch gelijke toon in de lege maat



# Enharmonische tonen




Welke enharmonische tonen zie je nog meer?  
Schrijf ze in de lege maten, net als in het voorbeeld





# Omcirkel het woord dat erbij hoort



Zeer langzame beweging

Andante  
Largo  
Presto  
Allegro  
Moderato




Matig langzame beweging

Andante  
Largo  
Presto  
Allegro  
Moderato



Matig snelle beweging

Andante  
Largo  
Presto  
Allegro  
Moderato



Snelle beweging

Andante  
Largo  
Presto  
Allegro  
Moderato



Zeer snelle beweging

Andante  
Largo  
Presto  
Allegro  
Moderato

